



මිනුවන්ගොඩ අධ්‍යාපන කලාපය

දෙවන වාර ඇගයීම - 2024

7 ශ්‍රේණිය

භූගෝල විද්‍යාව

නම/ විභාග අංකය:

කාලය :- පැය 2 යි

• අංක 01 - 05 දක්වා ප්‍රශ්නවලට නිවැරදි පිළිතුර කෝරා හිස්තැන මත ලියන්න.

- (1) අක්ෂාංශ 0^0 මගින් දැක්වෙන්නේ යි.
 - i. කර්කටක නිවර්තනය
 - ii. සමකය
 - iii. ග්‍රීනිච් රේඛාව
 - iv. ජාත්‍යන්තර දින රේඛාව
- (2) ලෝකයේ නගර අතරින් කුඩාම නගරය නගරය වේ.
 - i. පැසිපික්
 - ii. අත්ලාන්තික්
 - iii. ආකටික්
 - iv. ඉන්දියන්
- (3) පෘථිවියේ ඇති මහද්වීප කි.
 - i. 7
 - ii. 5
 - iii. 3
 - iv. 8
- (4) මුහුදු මට්ටමේ සිට $30m - 300m$ අතර කලාපය නම් වේ.
 - i. මධ්‍ය කඳුකරය
 - ii. වෙරළබඩ තැනිතලාව
 - iii. තෙත් කලාපය
 - iv. අභ්‍යන්තර තැනිතලාව
- (5) ශ්‍රී ලංකාවට අයත් රාජ්‍යීය මුහුදු සීමාව කි.
 - i. පැ. සැ. 12 කි.
 - ii. පැ. සැ. 24 කි.
 - iii. පැ. සැ. 200 කි.
 - iv. පැ. සැ. 20 කි.

• අංක 06 - 10 දක්වා ප්‍රකාශ හරි නම් $\sqrt{\quad}$ ලකුණ ද වැරදි නම් \times ලකුණ ද යොදන්න.

- (6) ශ්‍රී ලංකාවේ වියළි කලාපය හා තෙත් කලාපය වෙන් කරනු ලබන්නේ කැළණි ගඟ මගින්. ()
- (7) ජාතික උරුම අතරින් සිංහරාජ වනාන්තරය ස්පාශක උරුමයකි. ()
- (8) කඩොලාන ශාක ශුෂ්ක කලාපය තුළ දක්නට ලැබේ. ()
- (9) පෘථිවි ආදර්ශ ගෝලයේ උතුරේ සිට දකුණට ඇති මන:කල්පිත රේඛා දේශාංශ රේඛා ලෙස හඳුන්වයි. ()
- (10) ශ්‍රී ලංකාවේ සාක්ෂරතාව 92% කි. ()

• ප්‍රශ්න අංක 11 - 15 දක්වා ප්‍රශ්නවල නිවැරදි පිළිතුර හිස්තැන මත ලියන්න.

- (11) විශාල, අඛණ්ඩව විහිදෙන, බොහෝ විට ජලයෙන් වෙන් වූ භූ ස්කන්ධ ලෙස හැඳින්වේ.
- (12) යාපනය අර්ධද්වීපය ආශ්‍රිතව ජීවත්වන ජනයාට ප්‍රයෝජනවත් ශාකයකි.
- (13) අධික අවුරුද්දක් යෙදෙන්නේ වසර කට පසුවය.

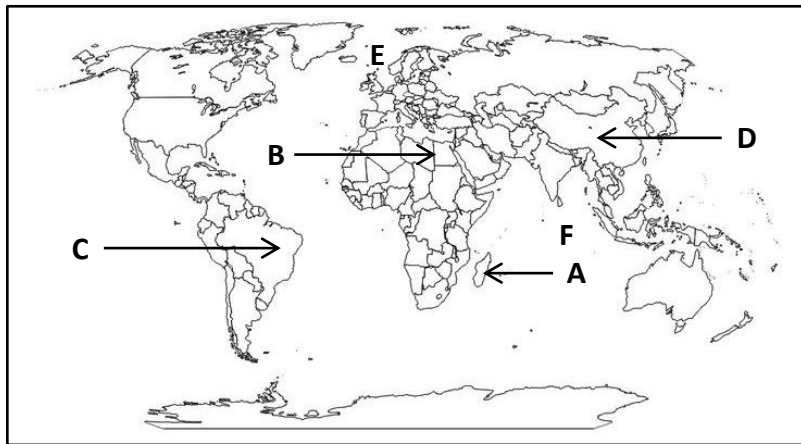
- (14) ශ්‍රී ලංකාවේ වර්ග ප්‍රමාණය වර්ග කිලෝමීටර් කි.
 (15) ශ්‍රී ලංකාවේ උතුරු හා නැගෙනහිර ප්‍රදේශවලට මගින් වැසි ලැබේ.
 • අංක 16 - 20 දක්වා ප්‍රශ්නවලට නිවැරදි පිළිතුර යා කරන්න.

(16) දකුණු ආසියාවට අයත් රටවල් ගණන	ඕස්ට්‍රේලියාව
(17) ලොව කුඩාම මහද්වීපය	7
(18) පෘථිවි ගෝලයේ මතුපිට වර්ග ප්‍රමාණය	12714
(19) පෘථිවියේ ධ්‍රැව ස්කන්ධය	පැසිපික්
(20) ලෝකයේ විශාලතම සාගරය	5.10

II කොටස

- පළමු ප්‍රශ්නය ඇතුළුව තවත් ප්‍රශ්න 05කට පිළිතුරු සපයන්න

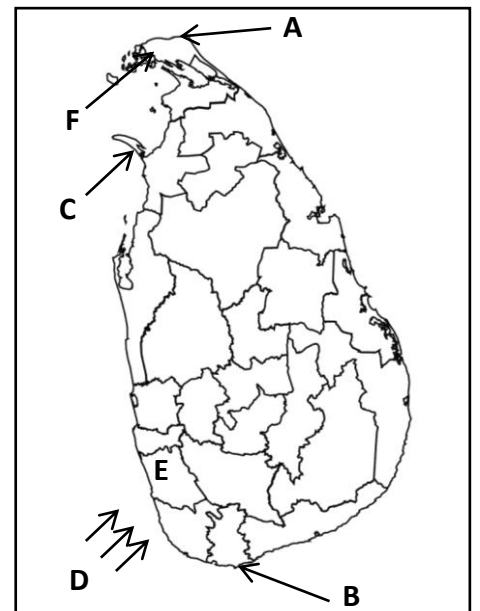
(1) (අ) දී ඇති ලෝක ආකෘති සිතියම ඇසුරින් අසා ඇති ප්‍රශ්නවලට පිළිතුරු ලියන්න.



- i. A අක්ෂරයෙන් දක්වා ඇති දූපත නම් කරන්න. (ල. 1)
- ii. B අක්ෂරයෙන් දක්වා ඇති මුහුද නම් කරන්න. (ල. 1)
- iii. C හා D අක්ෂරයෙන් දක්වා ඇති රටවල් 2ක් නම් කරන්න. (ල. 2)
- iv. E අක්ෂරයෙන් දක්වා ඇති දේශාංශක නම් කරන්න. (ල. 2)
- v. F අක්ෂරයෙන් දක්වා ඇති සාගරයේ නම ලියන්න. (ල. 2)

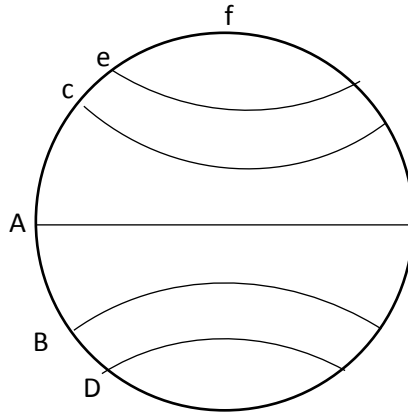
(ආ) දී ඇති ශ්‍රී ලංකා ආකෘති සිතියම ඇසුරින් පහත ප්‍රශ්නවලට පිළිතුරු සපයන්න.

- i. ජේදුරුතුඩුව දැක්වෙන අක්ෂරය (ල. 1)
- ii. F අක්ෂරයෙන් දැක්වෙන දිස්ත්‍රික්කය (ල. 1)
- iii. C අක්ෂරයෙන් දැක්වෙන දූපත (ල. 2)
- iv. D අක්ෂරයෙන් දැක්වෙන සුළං වර්ගය (ල. 2)
- v. E අක්ෂරයෙන් දැක්වෙන දිස්ත්‍රික්කය (ල. 2)



(2)

- i. පෘථිවි පරිභ්‍රමණයට ගත වන කාලය කොපමණද? (ල. 2)
- ii. පෘථිවි ආදර්ශ ගෝලයේ ඇති දේශාංශ යනු මොනවාදැයි පැහැදිලි කරන්න. (ල. 3)
- iii. පහත රූපයේ දැක්වෙන A, B, c, D, e, f අක්ෂර වලින් දක්වා ඇති අක්ෂාංශ නම් කරන්න. (ල. 5)



(3)

- i. දූපතක් යනු කුමක්ද? (ල. 2)
- ii. පෘථිවියේ ඇති දූපත් 3ක් නම් කරන්න. (ල. 3)
- iii. ඔබ දන්නා මහද්වීප 5ක් නම් කරන්න. (ල. 5)

(4)

- i. ශ්‍රී ලංකාවේ සාමාන්‍යයෙන් වියළි කාලගුණයක් ඇති මාස 2ක් නම් කරන්න. (ල. 2)
- ii. ඔබ දන්නා අස්පාශ උරුම 03ක් නම් කරන්න. (ල. 3)
- iii. ශ්‍රී ලංකාවේ වෙරළබඩ තැනිතලාවේ දැකිය හැකි භෞතික ලක්ෂණ 05ක් ලියන්න. (ල. 5)

(5)

- i. ශ්‍රී ලංකාව තුළ ජීවත් වන ප්‍රධාන ජන වර්ග 02ක් නම් කරන්න. (ල. 2)
- ii. ශ්‍රී ලංකාවට වැසි ලැබෙන ප්‍රධාන ක්‍රම 03ක් ලියා දක්වන්න. (ල. 3)
- iii. එයින් එක් වැසි ලැබෙන ක්‍රමයක් පිළිබඳව පැහැදිලි කරන්න. (ල. 5)

(6)

- i. දකුණු ආසියානු කලාපයට අයත් දූපත් 02ක් නම් කරන්න. (ල. 2)
- ii. දකුණු ආසියානු කලාපයට අයත් රටවල් 3ක් ලියන්න. (ල. 3)
- iii. ශ්‍රී ලංකාවේ අධ්‍යාපන හෝ සෞඛ්‍ය මට්ටම අනෙකුත් දකුණු ආසියාතික රටවලට වඩා ඉහළින් පැවතීමට බලපා ඇති හේතු පැහැදිලි කරන්න. (ල. 5)

(7)

- i. කඳුකර භූ දර්ශනයක දැකිය හැකි කැපී පෙනෙන භෞතික ලක්ෂණ 02ක් ලියන්න. (ල. 2)
- ii. කඳුකරයේ සිදු කෙරෙන ප්‍රධාන කෘෂිකාර්මික කටයුතු 03ක් නම් කරන්න. (ල. 3)
- iii. කඳුකරයේ සිදු කෙරෙන මානුෂ ක්‍රියාකාරකම් කෙටියෙන් පැහැදිලි කරන්න. (ල. 5)

(8)

- i. වියළි කලාපීය භෞතික භූ දර්ශනයේ කැපී පෙනෙන ලක්ෂණ 02ක් ලියන්න. (ල. 2)
- ii. වියළි කලාපීය භූ දර්ශකයේ දැකිය හැකි වනෝද්‍යාන 03ක් ලියන්න. (ල. 3)
- iii. වියළි කලාපීය භූ දර්ශකයේ ප්‍රධාන ලක්ෂණ 03ක් පැහැදිලි කරන්න. (ල. 5)