



මිනුවන්ගොඩ අධ්‍යාපන කලාපය

දෙවන වාර ඇගයීම - 2024

7 ශ්‍රේණිය


චිත්‍ර කලාව - I

නම/ විභාග අංකය:

කාලය :- පැය 1 යි


I කොටස

★ අංක 1 සිට 5 දක්වා ප්‍රශ්න සඳහා රූප ඇසුරින් අසා ඇති ප්‍රශ්නවලට පිළිතුරු සපයන්න.




- 1) මෙම රූප සටහනේ දැක්වෙන ස්තූපය නමින් හඳුන්වයි.
- 2) එය යුගයට අයත් නිර්මාණයකි.
- 3) මෙම ස්තූපය රජතුමා විසින් ඉදිකළ බව සඳහන් වේ.
- 4) මෙය හැඩයෙන් යුත් ස්තූපයකි.
- 5) වංශකතාවල සඳහන් පරිදි මෙය තිබූ ස්ථානයේ ඉදිකළ බව සඳහන් වේ.


★ අංක 6 සිට 10 දක්වා ප්‍රශ්න සඳහා රූප ඇසුරින් අසා ඇති ප්‍රශ්නවලට පිළිතුරු සපයන්න.




F



G



H



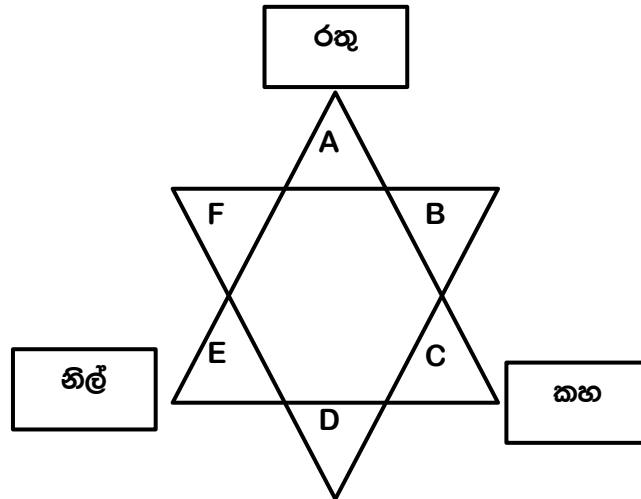
I



J

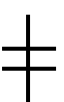
- 6) ක්ෂණික රේඛාමය අධ්‍යයනයකි.
- 7) පර්යාවලෝකය මැනවින් දක්නට ලැබේ.
- 8) සිල් මුද්‍රණ ක්‍රමය ඇසුරින් කළ නිර්මාණයකි.
- 9) ත්‍රිමාන ලක්ෂණ ඉතා හොඳින් දක්නට ලැබේ.
- 10) ස්ටෙන්සිල් මුද්‍රණයකි.

★ පහත දී ඇති රූප සටහන ඇසුරින් අංක 11 සිට 15 දක්වා ඇති ප්‍රශ්න වලට පිළිතුරු ලියන්න.








- 11) A සහ C වර්ණය එකතු වූ විට සෑදෙන වර්ණය නම් කරන්න.
- 12) මෙහි A රතු වර්ණයට සංගත වර්ණ දෙක නම් කරන්න.
- 13) C සහ E වර්ණය මිශ්‍ර වූ විට D වල සෑදෙන වර්ණය කුමක්ද?
- 14) නිල් වර්ණයට විරුද්ධ වර්ණය නම් කරන්න.
- 15) මෙහි හමුවන සීතල වර්ණ තුන නම් කරන්න.

★ අංක 16 සිට 20 දක්වා දී ඇති වාක්‍යවල හිඟතැනට අදාළ නිවැරදි පිළිතුරු ලියන්න.

- 16) සංඛ නිධි හා පද්ම නිධි යන බහිරව රූප දෙක හමුවූයේ ස්තූපයෙනි.
- 17) ලක්දිව විශාලතම ස්තූපයක් වන රුවන්වැලි සෑය හැඩයෙන් යුක්තය.
- 18) ලංකාවේ ප්‍රාග් ඓතිහාසික සිතුවම් හමුවන ගුහා අතර ඇතා සහ ඇත් පැටවා චිත්‍රය හමුවන්නේ ගුහාවෙනි.
- 19)  මෙම සංකේතයෙන් දක්වෙන්නේ තලගොයා නමැති චිත්‍රයයි. එම සිතුවම හමුවන්නේ නම් ගුහාවෙනි.
- 20) මෙම සිතුවම් වසර තුන්දහසක් පමණ ඉපැරණි බව මහතා විසින් අනුමාන කරයි.

★ අංක 21 සිට 25 දක්වා දී ඇති රූප සටහන් වලට ගැළපෙන නිවැරදි පිළිතුර තෝරා එම අක්ෂරය අදාළ රූප සටහන ඉදිරියේ ඇති වරහන තුළ යොදන්න.

- 21)  (.....) A- ධාන්‍යාකාර හැඩයෙන් යුත් ස්තූපයකි.
- 22)  (.....) B- පොළොන්නරු යුගයේ නිර්මාණයකි.
- 23)  (.....) C- ලක්දිව ඉදිකළ ප්‍රථම ස්තූපයකි.
- 24)  (.....) D- මහසෙන් රජුගේ නිර්මාණයකි.
- 25)  (.....) E- සෑ මළුවේ විහාර මහා දේවියගේ ප්‍රතිමාව දැකිය හැකිය.

★ අංක 25 සිට 30 දක්වා දී ඇති රූප සටහන් හොඳින් අධ්‍යයනය කර නිවැරදිව එම ප්‍රශ්න පහට අදාළ පිළිතුරු ලියන්න.



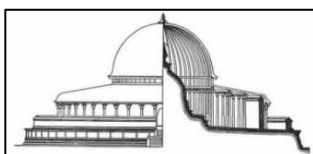
F



G



H



I



J

- 26) F -
- 27) G -
- 28) H -
- 29) I -
- 30) J -

(ලකුණු 30)

II කොටස

★ පහත සඳහන් කොටස් දෙකෙන් එක් කොටසකින් පමණක් එක් මාතෘකාවක් තෝරා ගෙන එක් විනයක් පමණක් අඳින්න.

(අ) කොටස

- 1) අපේ ගමේ පන්සලේ පෝය ද බෝධි පූජාවක්
- 2) ඉරිදි පොලේ බඩු ගන්නා අවස්ථාවක්
- 3) අවුරුදු උත්සවයක ඔබ සිත් ගත් අවස්ථාවක්
- 4) අස්වනු නෙලන ගොවියෝ

(ආ) කොටස

- 1) මල් හා කොළ ඇසුරුකරගෙන චිත්ත මෝස්තරයක්
- 2) කුෂන් කවරයකට ගැලපෙන මෝස්තරයක්
- 3) උපන්දින තැග්ගක් දීමට එහි දවටනයට ගැලපෙන සුදුසු මෝස්තරයක් නිර්මාණය කරන්න
- 4) පාසලේ පැවැත්වෙන කලා උළෙල සඳහා පෝස්ටරයක් නිර්මාණය කරන්න

(ලකුණු 70)