



මිනුවන්ගොඩ අධ්‍යාපන කලාපය

දෙවන වාර පරීක්ෂණය - 2023

10 ශ්‍රේණිය

භූගෝල විද්‍යාව - II

නම/ විභාග අංකය:

කාලය පැය 2 යි

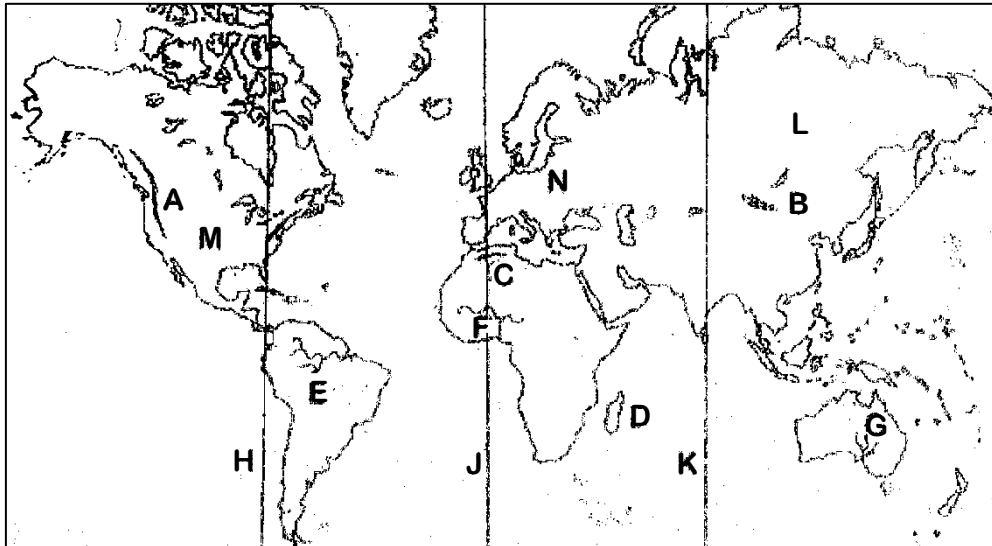
- ★ මෙහි පළමුවන ප්‍රශ්නය අනිවාර්ය වේ. ඉතිරි ප්‍රශ්න අතරින් ප්‍රශ්න හතරකට පිළිතුරු සැපයිය යුතුය.
- ★ පිළිතුරු සැපයිය යුතු මුළු ප්‍රශ්න සංඛ්‍යාව 5කි.

01)(අ)

- තේමා සිතියමක් යනු කුමක්ද? (ල 2)
- 1:50 000 භූ ලක්ෂණ සිතියමක වට තීරුවේ ඉහළ කොටසේ දක්නට ලැබෙන තොරතුරු දෙකක් ලියන්න. (ල 2)
- 1:50 000 භූ ලක්ෂණ සිතියමිවල දක්වෙන දිශා සටහන ඇඳ දක්වන්න. (ල 2)
- උචිත සංකේත හා වර්ණ භාවිතයෙන් පහත දක්වෙන ලක්ෂණ ඇඳ දක්වන්න.
 - උප දිසාපති කොට්ඨාශ මායිම
 - පොලීසිය
 - අඩිපාර
 - තේ වගාව

(ල 4)

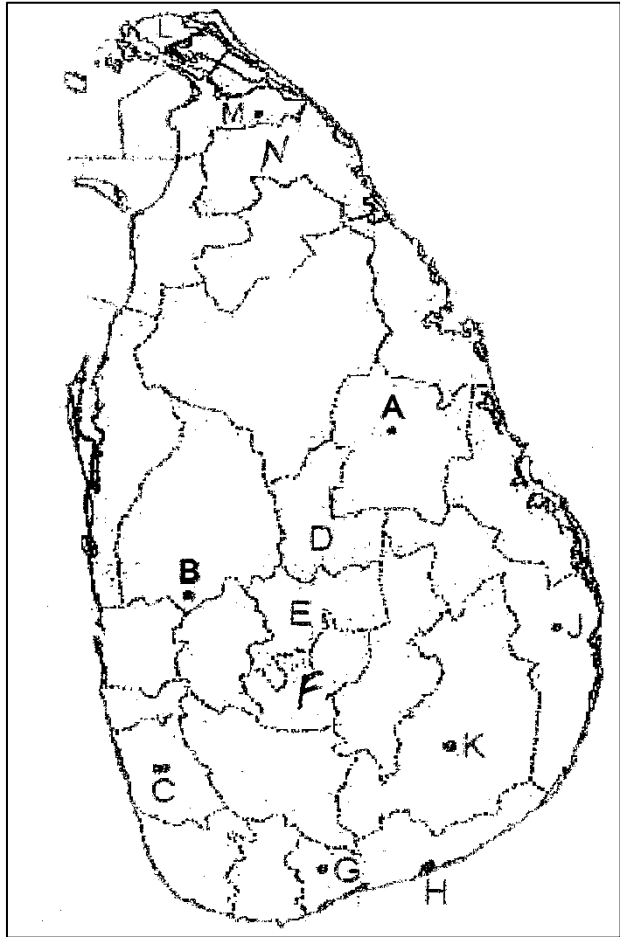
(ආ) මෙහි දක්වෙන ලෝක සිතියම හොඳින් අධ්‍යයනය කොට පහත සඳහන් ප්‍රශ්නවලට පිළිතුරු සපයන්න.



- සිතියමේ A B C වශයෙන් දක්වා ඇති කඳු අතරින් අල්තායි කඳු දක්වෙන අක්ෂරය කුමක්ද?
- D අක්ෂරයෙන් දක්වෙන දූපත නම් කරන්න.
- E F G අක්ෂර අතරින් නයිජර් ගංගාව දක්වෙන අක්ෂරය කුමක්ද?
- H J K අක්ෂර අතරින් නැගෙනහිර දේශාංශ 80° දක්වෙන අක්ෂරය කුමක්ද?
- L M N අක්ෂර අතරින් සයිබීරියානු තැන්න දක්වෙන අක්ෂරය කුමක්ද?

(ල 5)

(ඉ) සපයා ඇති ශ්‍රී ලංකා සිතියම ඇසුරින් පහත සඳහන් ප්‍රශ්නවලට පිළිතුරු සපයන්න.



- i. A B C අක්ෂර අතරින් බතලගොඩ වී පර්යේෂණ ආයතනය පිහිටි අක්ෂරය කුමක්ද?
- ii. D E F අක්ෂර අතරින් උඩරට තේ වගා කරන නුවරඑළිය දිස්ත්‍රික්කය දැක්වෙන අක්ෂරය කුමක්ද?
- iii. G H J අක්ෂර අතරින් සුළු පොල් ත්‍රිකෝණයට අයත් නගරයක් වන මිද්දෙනිය දක්වා ඇති අක්ෂරය කුමක්ද?
- iv. මොනරාගල දිස්ත්‍රික්කය දක්වා ඇත්තේ කුමන අක්ෂරයෙන් ද?
- v. L M N අක්ෂර අතරින් දේශීය හා විදේශීය වෙළඳපොළ සඳහා ඵලවළු වගා කරන යාපනය දැක්වෙන අක්ෂරය කුමක්ද?

(ල 5)

02)

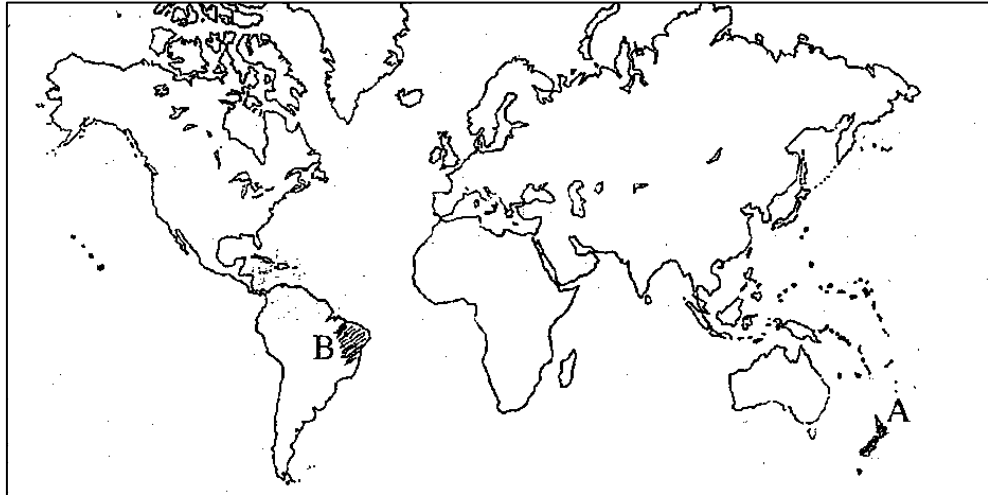
- i. වායුගෝලයේ අංශු මාත්‍ර වශයෙන් ඇති වායු වර්ග දෙකක් නම් කරන්න. (ල 2)
- ii. අපරිවර්තී ගෝලයේ විශේෂ ලක්ෂණ තුනක් ලියා දක්වන්න. (ල 3)
- iii. වායු දූෂණය අවම කර ගැනීමට අනුගමනය කළ හැකි ක්‍රියාමාර්ග තුනක් කෙටියෙන් විස්තර කරන්න. (ල 5)

03)

- i. පහත රටවල් පිහිටා ඇති භූ තැටි නම් කරන්න. (ල 2)
 - a) මැඩගස්කරය
 - b) බ්‍රසීලය
- ii. පෘථිවි කබොලෙහි දැකිය හැකි විශේෂ ලක්ෂණ තුනක් ලියන්න. (ල 3)
- iii. මිනිස් ක්‍රියාකාරකම් නිසා ශිලා ගෝලයට සිදුවන අහිතකර බලපෑම් තුනක් කෙටියෙන් විස්තර කරන්න. (ල 5)

- 04)
- i. තේ වගාවට අවශ්‍ය භෞතික සාධක දෙකක් ලියන්න. (ල 2)
 - ii. ලෝකයේ තේ වගාවේ විශේෂ ලක්ෂණ තුනක් ලියන්න. (ල 3)
 - iii. තේ නිෂ්පාදනය කරන රටවල් තේ අලෙවිය වැඩි කර ගැනීමට අනුගමනය කරන උපාය මාර්ග තුනක් කෙටියෙන් විස්තර කරන්න. (ල 5)

- 05)
- i. ලෝකයේ විශාල වශයෙන් කිරිපට්ටි පාලනය හා සම්බන්ධ රටවල් දෙකක් සිතියමේ A හා B ලෙස දක්වේ. ඒවා අනුපිළිවෙලින් නම් කරන්න. (ල 2)



- ii. කිරිපට්ටි පාලනයේ විශේෂ ලක්ෂණ තුනක් සඳහන් කරන්න. (ල 3)
- iii. කිරිපට්ටි පාලනයේ දියුණුව කෙරෙහි බලපාන ප්‍රධාන සාධක තුනක් සඳහන් කර ඉන් එකක් පැහැදිලි කරන්න. (ල 5)

- 06)
- i. ශ්‍රී ලංකාවේ වී වගා කරන අතරමැදි කලාපයට අයත් දිස්ත්‍රික්ක දෙකක් නම් කරන්න. (ල 2)
 - ii. ශ්‍රී ලංකාවේ වී වගාවට බලපා ඇති භෞතික සාධක තුනක් ලියන්න. (ල 3)
 - iii. වර්තමානයේ ශ්‍රී ලංකාවේ වී ගොවීන් මුහුණපාන ගැටළු තුනක් නම් කර ඉන් එකක් පැහැදිලි කරන්න. (ල 5)

- 07)
- i. ශ්‍රී ලංකාවේ ව්‍යාපාරික මට්ටමින් එළවළු වගාව සිදුකරන ප්‍රදේශ දෙකක් ලියන්න. (ල 2)
 - ii. ශ්‍රී ලංකාවේ සුළු අපනයන හෝග වගාව දියුණු කිරීමට රජය මඟින් පිහිටුවා ඇති ආයතන තුනක් නම් කරන්න. (ල 3)
 - iii. ශ්‍රී ලංකාවේ සුළු අපනයන හෝග වගාව දියුණු කිරීම තුළින් ලබා ගත හැකි ප්‍රයෝජන තුනක් කෙටියෙන් විස්තර කරන්න. (ල 5)

- 08)
- i. ශ්‍රී ලංකාවේ කරදිය ධීවර කර්මාන්තයේ ප්‍රධාන අංශ දෙක නම් කරන්න. (ල 2)
 - ii. ශ්‍රී ලංකාවේ ධීවර කර්මාන්තය සඳහා බලපා ඇති හිතකර සාධක තුනක් ලියා දක්වන්න. (ල 3)
 - iii. ශ්‍රී ලංකාවේ ධීවර කර්මාන්තය නගා සිටුවීම සඳහා රජයෙන් ගෙන ඇති පියවරයන් තුනක් කෙටියෙන් විස්තර කරන්න. (ල 5)