

සිසුරු

සිසුන්ගේ සාධන මට්ටම සංවර්ධනය කිරීමේ ව්‍යාපෘතිය

3 ශ්‍රේණිය - 2021

මිනුවන්ගොඩ අධ්‍යාපන කලාපය - ප්‍රාථමික අංශය

ගණිතය - පැවරුම් අංක - 02



නම:

සංඛ්‍යා අඩු කිරීම

1. අඩු කරන්න.

(1)	(2)	(3)	(4)
9	10	12	15
- 6	- 7	- 6	- 13
=====	=====	=====	=====

(5)	(6)	(7)	(8)
14	19	18	13
- 3	- 4	- 5	- 2
=====	=====	=====	=====

(9)	(10)
14	19
- 6	- 7
=====	=====

2. හිස් කොටු පුරවන්න.

1. $8 - 3 = \square$

2. $5 - 2 = \square$

3. $\square - 3 = 3$

4. $8 - \square = 3$

5. $10 - \square = 8$

6. $\square - 8 = 5$

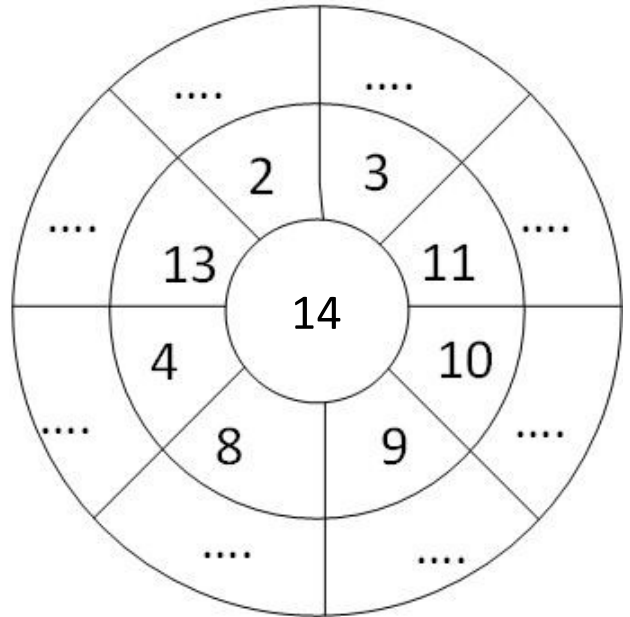
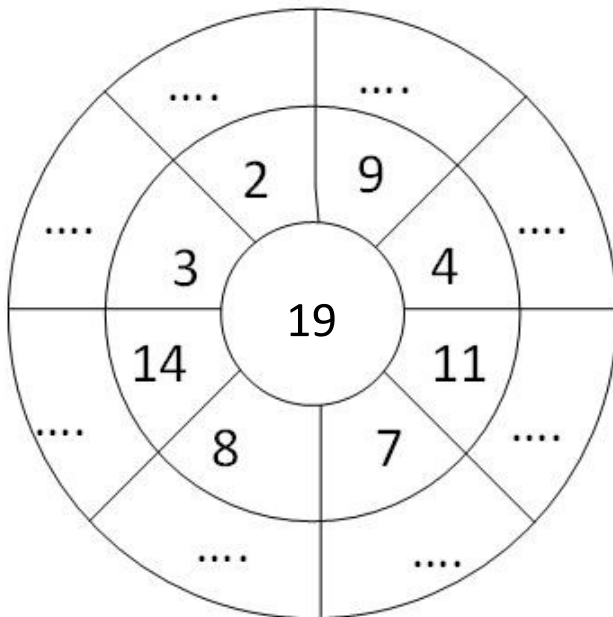
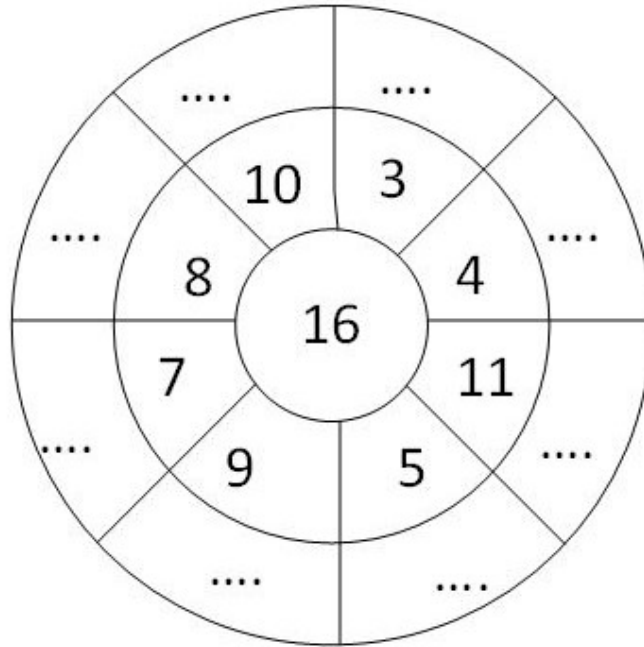
7. $16 - 2 = \square$

8. $19 - 8 = \square$

9. $9 - \square = 0$

10. $14 - 3 = \square$

3. මැද ඇති සංඛ්‍යාවෙන් වටේ ඇති සංඛ්‍යාව අඩු කර හිස් තැන් පුරවන්න.



පිළිතුර ලෙස මැද සංඛ්‍යාව ලැබෙන පරිදි හිස් කොටු පුරවන්න.

