



**ශ්‍රී ලංකා විද්‍යා පාඨමාලා මධ්‍යම පාලන කොට්ඨාසය**  
**පරීක්ෂණය - 2022**  
**මිරිගම අධ්‍යාපන කොට්ඨාසය**



**3 ශ්‍රේණිය**

deomirigama@gmail.com

0332273562

**I පත්‍රය**

අංක 01


ප්‍රශ්න සියල්ලටම පිළිතුරු සපයන්න.

නම : .....

පැය 1 යි

◆ දී ඇති වචන වලට ගැළපෙන පිළිතුරු තෝරා යටින් ඉරක් අඳින්න.

(01) තෙල්, ආලෝකය, තිරය



(02) මල්, කොළ, ආහාර



(03) අලංකාර, පක්ෂියෙක්, ඉගිලෙන



(04) ඇසීම, දැකීම, විහෝදය



◆ පහත සඳහන් වචන වල මුලින් දැක්වෙන වචනයට සමීඛන්ධයක් නොදක්වන වචනයට යටින් ඉරක් අඳින්න.

(05) සිවුසා - (1) බල්ලා (2) පුසා (3) හංසයා

(06) අහස - (1) තරු (2) ජලය (3) ඉර

◆ පහත ඇති ප්‍රශ්න වල පිංතූරයෙන් දැක්වෙන ක්‍රියාව නිවැරදිව කියවෙන වචනය තෝරා යටින් ඉරක් අඳින්න.

(07)  (1) පනිනවා (2) ගාටනවා (3) හැරගෙනවා


(08)  (1) අරිනවා (2) බානවා (3) පාවෙනවා

◆ රටාව අනුව හිස්තැනට ගැළපෙන පිලිතුර ලියන්න.

(09) 

(10) 

(11) 

(12) 

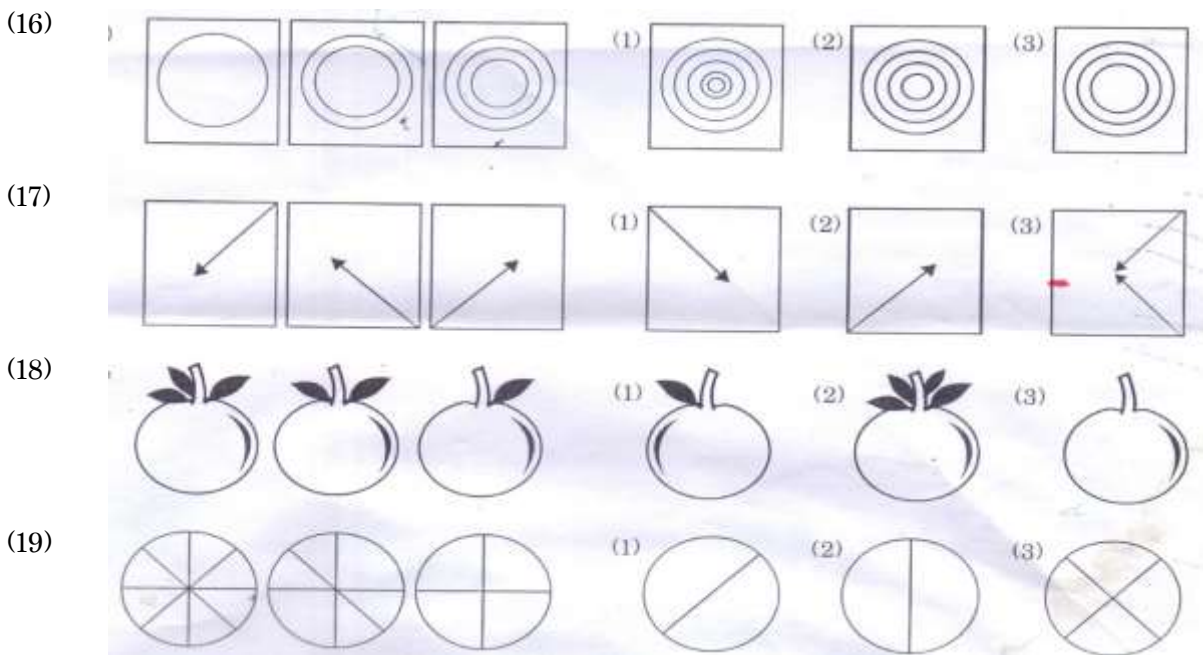
◆ පහත ඇති සිදුවීමෙහි නිවැරදි අනුපිලිවෙළ සඳහන් පිලිතුර තෝරා යටින් ඉරක් අඳින්න.

- (13) (1) මුහුණ සේදීම  
 (2) දෙමව්පියන් නැමදීම  
 (3) අලුයම අවදිවීම (1) 3 1 2 5 4 (2) 1 3 2 5 4 (3) 3 1 5 2 4  
 (4) පාසල වෙත යාම  
 (5) ආහාර ගැනීම

- (14) (1) දිනපතා ජලය දැමීම  
 (2) අස්වැන්න නෙලා ගැනීම  
 (3) පැළයක් සිටු වීම (1) 1 3 4 2 5 (2) 3 1 4 5 2 (3) 3 1 4 2 5  
 (4) පැළය වර්ධනය වීම  
 (5) ගෙඩි හට ගැනීම

- (15) (1) මීයා ලණු පොටවල් කැපුලා  
 (2) වැද්දු උගුලක් ඇටෙවිවා  
 (3) වැද්දු කේන්තියෙන් යන්න ගියා (1) 1 3 4 2 5 (2) 2 5 1 4 3 (3) 3 1 4 2 5  
 (4) කපුටුහාමි කාක් කාක් කිව්වා  
 (5) මුව පැටියා උගුලට අනුවුණා

◆ රටාව අනුව ඊළඟට ආ යුතු රූපය තෝරා ගැනීමේ ඉරක් ඇඳීම.

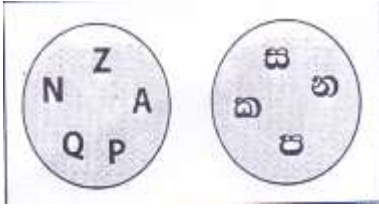


◆ පහත ඇති ගැටලු විසඳා පිළිතුර තිත් ඉර මත ලියන්න.

- (20) ඇපල් ගෙඩි 2ක මිල රුපියල් 12 කි. ඇපල් ගෙඩියක මිල කීයද? (.....)
- (21) 3 ශ්‍රේණියේ ළමයි 34ක් ද, 4 ශ්‍රේණියේ ළමයි 27 ක් ද ශ්‍රේණි 2හි සිටින මුළු ළමයි ගණන කීයද? (.....)
- (22) බසයක සිටින මගීන් සංඛ්‍යාව 58 කි. එක් නැවතුමකදී මගීන් 27ක් බැස ගියේ නම් දැන් බසයේ සිටින මගීන් සංඛ්‍යාව කොපමණද? (.....)

◆ පහත දැක්වෙන කොටු තුළ ඇති අකුරු සහ ඉලක්කම් පරීක්ෂා කර බලා නිවැරදි පිළිතුර තෝරන්න.

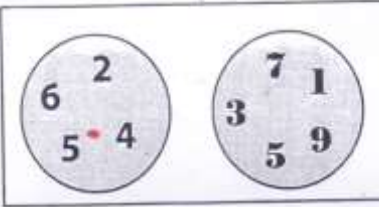
(23)



මෙහි වැඩිපුරම ඇත්තේ,

- (1) ඉංග්‍රීසි අකුරුය
- (2) සිංහල අකුරුය
- (3) අකුරුය

(24)



මෙහි වැඩිපුරම ඇත්තේ,

- (1) ඉරට්ටේ සංඛ්‍යා
- (2) ඔත්තේ සංඛ්‍යා
- (3) ඉලක්කම්ය

◆ පහත ඇති තේරවිලිවලට ගැලපෙන නිවැරදි පිළිතුර තෝරා යටින් ඉරක් අඳින්න.

(25)

ගේ අරගෙන ඇවිදින්නේ  
 දවල්ට මම හැරගෙනේ  
 එළවළු දල කොළ කන්නේ  
 ගොවියගේ සතුරෙකු වන්නේ


- (1) ඉඩ්ඩා
- (2) ගොළුබෙල්ලා
- (3) ගැඩවිලා

(26)

ඉරටු ඇගේ කොළ අලවා  
 රැලි දමලා හැඩ කරලා  
 දිග නූලක ගැට ගහලා  
 යවයි අහසේ පා කරලා

- (1) සරුංගලය
- (2) අහස් යානය
- (3) වෙසක් කුඩුව

◆ පහත ඇති රූපය බලා 27 සිට 30 දක්වා ප්‍රශ්න සඳහා පිළිතුරු ලියන්න.



- (27) මෙහි ඇති වෘත්ත ගණන කීයද? .....
- (28) මෙහි ඇති ත්‍රිකෝණ ගණන කීයද? .....
- (29) මෙහි ඇති සමචතුරස්‍ර ගණන කීයද? .....
- (30) කොටු ව තුළ ඇති සෘජුකෝණාස්‍ර ගණන කීයද? .....

(31) අකුරු අඩුවක් නැති වාක්‍ය තෝරා යටින් ඉරක් අඳින්න.

- (1) බුරුන බල්ලන් හපා නොකයි.
- (2) අම්මා වතුර බෙයි.
- (3) මීරිගම අපේ ළඟ ම නගරයයි.

(32) කොටස් දෙකම සමාන වන පේළිය තෝරන්න.

- (1) 56, 42 - 35, 26
- (2) 82, 45 - 43, 69
- (3) 88, 32 - 88, 32

(33) මගේ තාත්තාගේ අයිතා මගේ කවුද?

- (1) මාමා ය      (2) සීයා ය      (3) මහජ්ජා ය

(34) කවියෙන් විස්තර කරන රූපය තෝරන්න.

කඳුට	කොටයි
අහර	සොයයි
තවත්	අයට
ගෙවල්	සඳයි

(1)



(2)



(3)



(35) ඉහල	නගියි
ගුවහෙ	සරයි
තෙල්	නිගනම්
ගමන	නිමයි

(1)



(2)



(3)



(36) පහත දැක්වෙන මුල් රූපය කඩදාසියක ඇඳ එය කණ්ණාඩියකින් බැලූ විට පෙනෙන ආකාරය තෝරා ගැනීමේ ඉරක් ඇඳීම.

පි

(1)

(2)

(3)

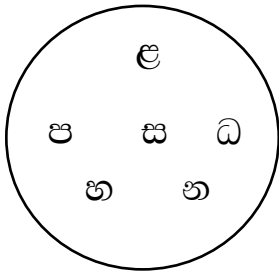
පි

ඩ

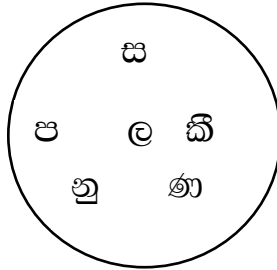
පි

◆ නිවැරදි පිළිතුර තෝරන්න.

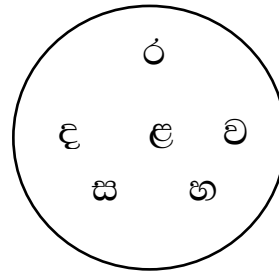
(1)



(2)



(3)



(37) මෙහි වෘත්ත තුනට ම පොදු අකුර කුමක්ද?

(38) වෘත්ත දෙකක පමණක් ඇති මූර්ධප අකුර ලියන්න.

(39) 1, හා 2 වෘත්ත දෙක තුළ තිබෙන සමාන අකුරු ලියන්න.

(40) 2 හා 3 වෘත්ත දෙක තුළ පමණක් තිබෙන සමාන අකුර කුමක්ද?