



ශ්‍රේණිව සාධන මට්ටම් පරීක්ෂණය 2022 මීරිගම අධ්‍යාපන කොට්ඨාසය



4 ශ්‍රේණිය

deomirigama@gmail.com

0332273562

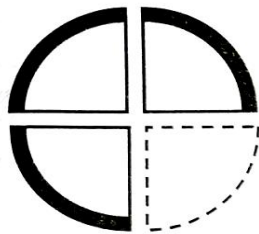
I ප්‍රශ්නය

නම :

❖ ප්‍රශ්න සියල්ලටම පිළිතුරු තෝරා යටින් ඉරක් අදින්න.

අංක 1 සහ 2 ප්‍රශ්නවල හිස්තැට්ට ගැලපෙන කොටස තෝරන්න.

(01)



(i)




(ii)



(iii)

(02)



(i)



(ii)




(iii)

අංක 03 හා 04 ප්‍රශ්නවල මූලින් දී රූපය වෙනුවට ආදේශනය කළ හැකි රූපය තෝරා යටින් ඉරක් අදින්න.

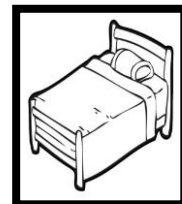
(03)



(1)


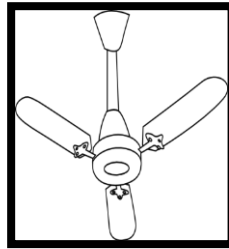
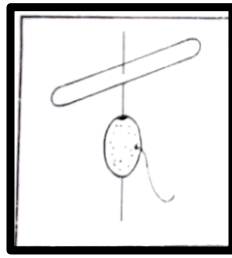
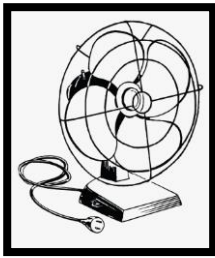


(2)



(3)

(04)



(1)

(2)

(3)

අංක 05, 06 ප්‍රශ්නවල දී ඇති ගීත කොටස ඇසුරින් පිළිතුරු තෝරන්න.

නවා ගයන බට්ති මලින්තෝ
අපා දෙපා සිවුපා ඇත්තෝ
ඉරේ හඳේ ගහේ වැලේ
අපි වගේම උරුමය ඇත්තෝ

(05) අයිතිය යන අදහස ගෙන දෙන වචනය කුමක්ද?

- I. ලෝකයේ
- II. සතුට
- III. උරුමය

(06) පාද නොමැති යන අදහස දෙන වචනය වන්නේ?

- I. අපා
- II. දෙපා
- III. සිවුපා

ප්‍රශ්න අංක 07 හා 08 රටාව අනුව ඊළඟට ආ යුතු සංඛ්‍යාව දැක්වෙන පිළිතුර තෝරන්න.

(07) 20, 18, 16, 14,

- I. 13
- II. 16
- III. 12

(08)

3	4	5
---	---	---

4	5	6
---	---	---

....
------	-----	-----

I

II

III

5	6	7
---	---	---

6	7	5
---	---	---

8	9	10
---	---	----

පහත ප්‍රස්තාව පිරුළු සම්පූර්ණ කිරීමට වඩාත් ම ගැළපෙන පිළිතුර තෝරන්න.

(09) පරංගියා ගියා වගේ.

- I. කෝට්ටේ
- II. යාපනයේ
- III. මහනුවර

(10) ඉබ්බන්ගෙන් ඉල්ලනවා වගේ.

- I. පිහාටු
- II. කරමල්
- III. වලිගය

මුලින් දී ඇති සිදුවීමට පසු ව ඊළඟට සිදුවිය හැකි සිදුවීම සහිත පිළිතුරු තෝරන්න.

(11) මල් පිපුණා →

- I. සුළං හැමුවා
- II. වර්ෂාව ඇතිවුණා
- III. මල් පරවුණා

(12) ලෙඩ රෝග හැඳුණා →

- I. ප්‍රතිකාර ලබා ගන්නා
- II. සතුවු වුණා
- III. ආහාර නරක් වුණා

(13) ශාලාවක පවත්වනු ලබන චිත්‍ර ප්‍රදර්ශනයක් සිකුරාදා දිනක ආරම්භ වී දින 06ක් පුරා පැවැත්විණි. එය අවසන් වූ දවස වන්නේ?

- I. අගහරුවාදා
- II. බදාදා
- III. බ්‍රහස්පතින්දා

(14) ලෝක වෙළෙඳ මධ්‍යස්ථානය හා ලංකා බැංකු මූලස්ථාන ගොඩනැගිල්ල දැක්වෙන මුදල් තෝට්ටුව වන්නේ?

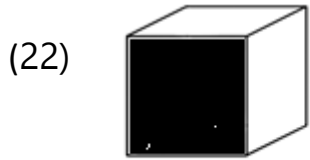
- I. රුපියල් 100.00
- II. රුපියල් 500.00
- III. රුපියල් 1000.00

(20) ඕනෑම වර්ෂයක දින 31 න් අවසන් වන එක ළග පිහිටි මාස දෙකක් වන්නේ?

- I. ජූලි, අගෝස්තු
- II. ජනවාරි, පෙබරවාරි
- III. මාර්තු, අප්‍රේල්

(21) කෙටි ඇද පාපිල්ල යෙදුණු වචන ඡේදිය තෝරන්න.

- I. සුසා, පුටුව, මුහුද
- II. රුව, රූල, රුවල
- III. කුඩය, තුමස, තුවාලය



මෙම ඝනවස්තුවේ පාට කර ඇති කොටසින් පෙන්වන හැඩතලය කුමක්ද?

- I. ඝනකය
- II. සමචතුරස්‍රය
- III. ඝනකාභය

(23) මෙවැනි ඝනක තුනක් එක මත තැබුවිට සැදෙන ඝනවස්තුව විය හැක්කේ මින් කුමක්ද?

- I. ඝනකාභය
- II. සිලින්ඩරය
- III. ගෝලය

(24) අක්කාගේ වයස මගේ වයස මෙන් දෙගුණයකි. අක්කාට වයස 32 ක් නම් මගේ වයස කීයද?

- I. අවුරුදු 15
- II. අවුරුදු 16
- III. අවුරුදු 17

(25) පැන්සලක දිග මැනීමට සුදුසු ම මිනුම් ඒකකය වන්නේ?

- I. මිලි මීටර
- II. මීටර
- III. සෙන්ටිමීටර

(26) 87 මෙම සංඛ්‍යාවට හිමි දහසේ ඒවා ගණන කීයද?

- I. 08 කි
- II. 07කි
- III. 09කි

(27)



මෙම ඔරලෝසු මුහුණතෙහි දැක්වෙන්නේ කැඩපතකින් බැඳවී පෙනෙන වේලාවකි.. එහි සැබෑ වේලාව වන්නේ?

I. 08.00යි.

II. 4.00 යි

III. 12.00යි

(28) එකම දිනෙක උපන් දිනය යෙදී නිවු යහළුවන් නිදෙනෙකු උපන් දින සුභ පැතුම්පත් හුවමාරු කර ගත්හ. ඔවුන් අතර හුවමාරු වූ සුභ පැතුම්පත් ගණන වන්නේ?

I. 03 කී

II. 05 කී

III. 06 කී

(29) 4 A ශ්‍රේණියේ සිසුන් ගණන 34 කි. 4 B ශ්‍රේණියේ සිසුන් 32 කි. එම පන්ති දෙකෙහිම සිසුන්ගේ එකතුවෙන් භාගයක් 4 C ශ්‍රේණියේ සිටිති. එසේ නම් 4 C හි සිසුන් සංඛ්‍යාව කොපමණ ද?

I. 66 කී

II. 33කී

III. 96 කී

(30) මගේ තාත්තාගේ බාල සොහොයුරා මගේ කවුද?

I. බාප්පා

II. ලොකු තාත්තා

III. මාමා

(31) නුවන් රුපියල් 50.00ක් වැය කර දොඩම් ගෙඩි දෙකක් ද රුපියල් 75.00 ක් වැය කර අඹ ගෙඩි 02ක් ද මිලට ගත්හ. ඔහු වෙළෙඳුන්දාට ගෙවිය යුතු මුදල වන්නේ?

I. රුපියල් 175. 00 කී

II. රුපියල් 250. 00 කී

III. රුපියල් 150. 00 කී

(38) මීටරයක් දිග ලී පටියක් සමාන කොටස් ලැබෙන සේ තුන් තැනකින් කපන ලදී. ලැබුණු කැබලි ගණන කීයද?

I.3කි

II.4කි

III.10ක

(39) කාල සටහනකට අනුව කටයුතු කරයි.

I. පාසල

II. පොලිසිය

III.පන්සල

(40) වැටකොළ කරලක පිහිටි දාර ගණන වන්නේ?

I. 20කි

II. 30 කි

III.10 කි